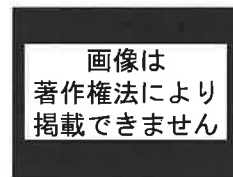
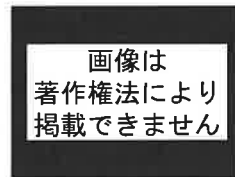
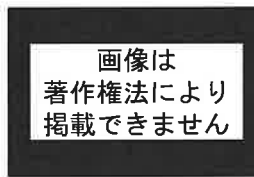
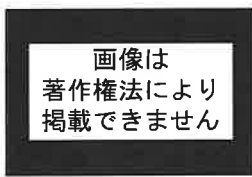


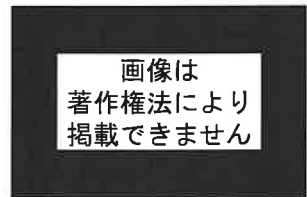
各問題に対する解答は配布したマークシートの解答欄にマークすること。例えば  と表示のある問題に対して④と解答する場合は、解答番号  の解答欄の④にマークすること。

(1) 毎年の初詣参拝者数で上位にランキングされる関東の寺社に関わる記述のうち正しいものはどれか、次の①～④から一つ選びなさい。(3点)

- ① 明治天皇・昭憲皇太后を祭神とする「明治神宮」は、広大な代々木の杜と神宮外苑、新宿御苑からなり、総面積は伊勢神宮内宮を超え日本一の広さを誇る。
- ② 伝教大師最澄を本尊とする「川崎大師（平間寺）」は、喜多川歌麿作「東海道五十三次」の一つ「川崎宿」に「八角五重塔」が描かれ、江戸時代から篤い信仰を集めている。
- ③ 不動明王を本尊とする「成田山新勝寺」を帰依した初代中村歌右衛門は、江戸歌舞伎荒事の代表作「成田山分身不動」を演じ、以来「成田屋」が中村宗家の屋号となる。
- ④ 観音菩薩を本尊とする「浅草寺」のある浅草地区で毎年5月に開催される「三社祭」は、浅草寺建立ゆかりの三人を神として祀ったと伝わる浅草神社の例祭である。



(2) 11世紀末から12世紀のはじめに、奥州藤原氏が陸奥の  を根拠地として支配権を奥羽（陸奥、出羽）地方全域に広げた。藤原清衡は奥羽地方で採掘した多量の金を財源に中尊寺に大規模な造営を行い、二代目基衡、三代目秀衡も、毛越寺に中尊寺をしのぐ伽藍、浄土庭園を造営するなど繁栄を誇った。しかし藤原氏討伐のため28万の大軍を率いた  の奥州侵攻により滅亡する。



問1  に入る語句として、最も適当地名はどれか、次の①～④から一つ選びなさい。(3点)

- ① 胆沢                      ② 一関                      ③ 仙台                      ④ 平泉

問2  に入る語句として、最も適当な武将名はどれか、次の①～④から一つ選びなさい。(3点)

- ① 源 義経                      ② 源 頼朝                      ③ 源 頼家                      ④ 北条泰時

(3) 北海道に係る A、B の出来事に関し、以下の問に答えなさい。

- A 1854 年 ペリー提督が箱館に来港  
 B 1880 年 手宮～札幌間の官営鉄道開業

問 1 A は日米和親条約に基づいたペリーの箱館来港であったが、この条約に関する次の記述のうち正しいものはどれか、次の①～④から一つ選びなさい。 (2 点)

- ① 東海道の宿駅「神奈川」の近くで結ばれたことから神奈川条約とも呼ばれる。  
 ② 横浜、箱館の 2 港を開いて領事の駐在を認め、船の燃料や食料の提供、難破船や乗組員救助の義務を負う。  
 ③ 日本に滞在する米国民には治外法権を認め、日本に輸入関税率の決定権がない(関税自主権の欠如)不平等条約である。  
 ④ アメリカの他に同様の和親条約を締結した国は、イギリス、フランス、オランダの 3 か国である。

問 2 B は新橋～横浜間、大阪～神戸間(後、京都まで延伸)に続き開業した鉄道となるが、起点の手宮駅とはどこにあるか、次の①～④から一つ選びなさい。 (3 点)

- ① 函館                      ② 小樽                      ③ 室蘭                      ④ 幌内

問 3 B の鉄道の、旅客輸送以外の重要な輸送物として最も適当なものはどれか、次の①～④から一つ選びなさい。 (2 点)

- ① 農産品                      ② ニシン                      ③ 鉄鉱石                      ④ 石炭

- (4) 東京都墨田区にある「すみだ  美術館」は、江戸時代後期に浮世絵をはじめ狩野派、土佐派、西洋画法を学び、琳派まで修得した墨田区ゆかりの絵師と、その門人や墨田区ゆかりの作品を中心とした美術館で、富嶽三十六景「神奈川沖浪裏」や百物語「さらやしき」など数多くのコレクションがある。

問1  に入る語句として、正しいものはどれか、次の①～④から一つ選びなさい。 (3点)

- ① 写楽                      ② 春信                      ③ 広重                      ④ 北斎

問2 富嶽三十六景の中に別名「赤富士」と称される作品がある。その正式名はどれか、次の①～④から一つ選びなさい。 (2点)

- ① 凱風快晴  
② 御厨川岸より両国橋夕陽見  
③ 東海道金谷ノ不二  
④ 甲州伊沢暁

画像は  
著作権法により  
掲載できません

- (5) 日光東照宮は、江戸幕府初代将軍徳川家康を東照大権現としてまつる神社で、表門から神厩舎(しんきゅうしゃ)、三神庫(さんじんこ)、御水舎(おみずや)、陽明門(ようめいもん)、東西の廻廊(かいろう)、唐門(からもん)の正面及び背面、東西の透塀(すきべい)、御本社(ごほんしゃ)、神輿舎(しんよしゃ)、祈祷殿(きとうでん)、奥の院、薬師堂(本地堂)、五重塔などの社殿群で構成されている。

問1 日光東照宮に関する記述のうち正しいものはどれか、次の①～④から一つ選びなさい。 (2点)

- ① 国宝「陽明門」は、建築様式、工芸、彫刻など江戸文化が凝縮された豪華絢爛な建造物で、日暮れ時が最も輝いて見えることから、別名「日暮の門」と称されている。  
② 「神厩舎」の外壁には、人の一生を風刺したと伝えられる八枚の猿の彫刻があり、そのうちの一枚「三猿(見ざる、言わざる、聞かざる)」は、広く知られている。  
③ 「神輿舎」の外壁には、江戸時代に活躍した名工左甚五郎の作と伝えられる「眠り猫」の彫刻がある。  
④ 権現造の国宝「御本社」拝殿には、左甚五郎の作と伝えられる鏡天井に龍が描かれており、拝殿内で拍子木を打つと甲高い音が鳴り響くことから「鳴龍」と称されている。

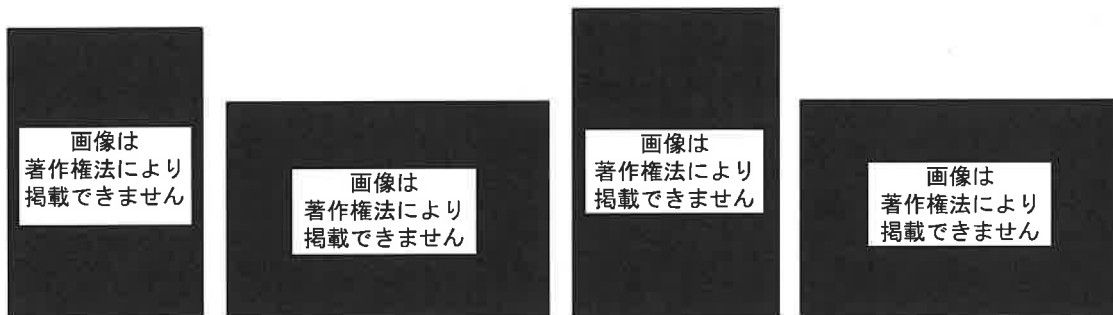
画像は  
著作権法により  
掲載できません

画像は  
著作権法により  
掲載できません

画像は  
著作権法により  
掲載できません

画像は  
著作権法により  
掲載できません

問 2 日光東照宮の国宝には 8 棟の建造物が指定されているが、下記の建造物のうち国宝に指定されている建造物はどれか、①～④から一つ選びなさい。(3 点)



- ① 御水舎                      ② 唐門                      ③ 五重塔                      ④ 薬師堂

(6) 江戸時代の事象にかかわる A～D の記述について、以下の間に答えなさい。

- A 5 代将軍徳川綱吉の時代、日本独自の元禄文化が成熟する反面、幕府の財政破綻を招き、6 代将軍徳川家宣は、儒学者の新井白石を任用して政治の刷新を図った。
- B 政策実行のため大岡忠相を登用して儉約を奨励し、大名からの上げ米や新田の開発を進めて幕府の増収を図り、町火消を組織、目安箱の設置、公事方御定書を制定した。
- C 11 代将軍徳川家斉の時代、実測による大日本沿海輿地全図ができ、蘭学研究への関心が高まる中、シーボルト事件から蛮社の獄など幕府の洋学への弾圧があった。
- D 日米和親条約により鎖国政策から開国に転じたが、老中首座阿部正弘は薩摩藩主島津斉彬、前水戸藩主徳川斉昭を登用して、国防の充実のため「安政の改革」を行った。

問 1 A の時代、綱吉の側用人だった柳沢吉保は江戸下屋敷に自らが設計し、8 年の歳月を掛けた回遊式庭園を造った。その元禄文化を代表する庭園名として正しいものはどれか、①～④から一つ選びなさい。(3 点)

- ① 小石川後樂園              ② 清澄庭園              ③ 浜離宮恩賜庭園              ④ 六義園

問 2 8 代将軍徳川吉宗が実行した B の政治改革を指す語句として適当なものはどれか、①～④から一つ選びなさい。(2 点)

- ① 天保の改革              ② 正徳の治              ③ 享保の改革              ④ 寛政の改革

問 3 C の時代、長崎オランダ商館のドイツ人医師シーボルトは、長崎郊外に  を開き、オランダ語、医学、自然科学を教え、高野長英など多くの幕末の蘭学者を育てた。空欄  に入る最も適当な語句はどれか、次の①～④から一つ選びなさい。(3 点)

- ① 洗心洞                      ② 松下村塾                      ③ 適々斎塾 (適塾)              ④ 鳴滝塾

問 4 D の 14 代将軍徳川家茂から 15 代将軍徳川慶喜の時代、安政の改革から大政奉還までに起こった事象に関する記述のうち正しいものはどれか、次の①～④から一つ選びなさい。

(2 点)

- ① 大老に就いた井伊直弼は、島津斉彬や多数の尊王攘夷派の弾圧（後に安政の大獄といわれる）を行ったため、江戸城坂下門外で薩摩脱藩の志士らにより暗殺された。
- ② 徳川幕府は、朝廷（公）と幕府（武）の融和をはかる公武合体の政策をとり、皇女和宮を家茂の妻に迎えた。
- ③ 神奈川宿に近い生麦において長州に向かう長州藩主の行列を横切ったイギリス人を殺傷する生麦事件が、イギリスを中心とする四国艦隊下関砲撃事件の引き金となる。
- ④ 倒幕の密勅を手に入れた薩摩、長州両藩は、朝廷の発した「王政復古の大号令」をもって、慶喜に江戸城の開城を迫り、江戸城大広間における大政奉還となる。

(7) 明治時代の事象に関する A～C の記述について、以下の間に答えなさい。

- A 殖産興業政策推進のため、国立銀行条例の制定、第一国立銀行を設立
- B 華族令を定め貴族院の土台をつくり、太政官制を廃して内閣制度を制定
- C 大日本帝国憲法を公布し、併せて皇位の継承、摂政の制などを定めた皇室典範を制定

問 1 A の第一国立銀行の初代頭取を務め、金融、保険、交通、通信、商工業など幅広い分野の企業創設、育成に携わった、現在の埼玉県出身の実業家はだれか、次の①～④から一つ選びなさい。 (2 点)

- ① 岩崎弥太郎                      ② 大隈重信                      ③ 渋沢栄一                      ④ 松方正義

問 2 B の初代内閣総理大臣で、憲法制定調査のためヨーロッパに留学の経験もある長州藩出身の政治家はだれか、次の①～④から一つ選びなさい。 (3 点)

- ① 伊藤博文                      ② 岩倉具視                      ③ 黒田清隆                      ④ 山県有朋

問 3 C の大日本帝国憲法に関する記述のうち正しいものはどれか、次の①～④から一つ選びなさい。 (2 点)

- ① 憲法の草案作成作業は、国民には極秘ですすめられ、天皇隣席のもと内閣府においてすべての審議が行なわれた。
- ② すべての統帥権は天皇にあり、立法・行政・司法の三権分立の規定はなかった。
- ③ 憲法上、臣民である日本国民は、法律の範囲内で所有権の不可侵、信教の自由、言論・出版・集会・結社の自由が認められた。
- ④ 憲法の規定により帝国議会は、枢密院、貴族院、衆議院の三院制となった。

- (8) a は、水戸出身の日本画家。東京美術学校の1期生として橋本雅邦の指導を受け、京都市美術工芸学校（現京都市立芸術大学）の教鞭をとった後、母校の助教授となるも辞職して日本美術院創立に参画する。代表作には富士山を描いた作品の一つ「霊峰飛鶴（れいほうひかく）」や40m超の日本一長い画卷「b」（東京国立近代美術館蔵）がある。

問1 a に入る日本画家名としてあてはまるものを、次の①～④から一つ選びなさい。

(2点)


- ① 岡倉天心                      ② 狩野芳崖                      ③ 川合玉堂                      ④ 横山大観

18

問2 b に入る作品名としてあてはまるものを、次の①～④から一つ選びなさい。

(2点)

- ① 瀟湘八景(しょうしょうはっけい)  
 ② 肇国創業絵巻(ちょうこくそうぎょうえまき)  
 ③ 東海道五十三次合作絵巻(とうかいどうごじゅうさんつぎがっさくえまき)  
 ④ 生々流転(せいせいりてん)



(一部)

19

- (9) 日本人のノーベル賞受賞に関する記述のうち正しいものはどれか、次の①～④から一つ選びなさい。

(3点)

- ① 野口英世は日本人初のノーベル賞受賞者で、黄熱病の病原菌の発見が評価された。  
 ② 川端康成は日本人3人目となるノーベル賞受賞者で、代表的な作品には、『古都』『雪国』がある。  
 ③ 佐藤栄作は日本人唯一のノーベル平和賞受賞者で、沖縄返還、および日本と中国との国交正常化が評価された。  
 ④ 大江健三郎は日本人2人目となるノーベル文学賞受賞者で、代表的な作品には、『あまいな日本の私』『走れメロス』がある。

20

(10) 「忍者のふるさと」で知られる伊賀国での出来事 A～D について以下の問いに答えなさい。

- A 1644 年、わが国を代表する俳人  が伊賀国上野で生まれる。
- B 藤堂高虎が伊賀上野城を拡張（大幅改修）する。
- C 「本能寺の変」に遭遇した徳川家康は、伊賀の間道を抜けることにより領国の三河に無時帰還する。
- D 織田信長が、それまで在地土豪の連合支配が行われていた伊賀を武力で制圧する。

問 1 上の出来事を古い順番に正しく並べたものを、次の①～④から選びなさい。 (3 点)

- ① A・B・C・D      ② A・B・D・C      ③ B・A・C・D      ④ D・C・B・A

問 2 写真は、後世では「俳聖」として知られる空欄  の俳諧師の生誕 300 年を記念してつくられた建築物である。その人物とは誰か、次の①～④から一つ選びなさい。 (3 点)

- ① 小林一茶      ② 松尾芭蕉      ③ 与謝蕪村      ④ 良寛

画像は  
著作権法により  
掲載できません

問 3 C で家康を護衛、道案内をした伊賀者たちを率い、後に「伊賀同心」として配下におき、支配したといわれるのは誰か、次の①～④から一つ選びなさい。 (3 点)

- ① 井伊直政      ② 榊原康政      ③ 服部正成（半蔵）      ④ 本多忠勝

(11) 京都に関連する以下の問いに答えなさい。

問 1 「平安京」に関連する①～④の記述の中で正しいものを一つ選びなさい。 (2 点)

- ① 794 年に嵯峨天皇によって遷都された。
- ② それまでの都は平城京（現在の奈良市）であった。
- ③ 中央を南北に走る朱雀大路によって左京・右京に二分し、北部中央に南面して大内裏をおいた。
- ④ 平安時代末期に、木曾義仲によって摂津国福原に一時的遷都がなされた。

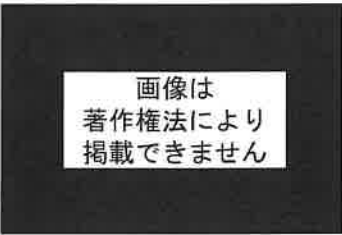
問 2 「清水寺」に関連する①～④の記述の中で正しいものを一つ選びなさい。 (3 点)

- ① 8 世紀末に、延鎮が和氣清麻呂の助成を得て開創したと伝わっている。
- ② 興福寺と延暦寺との抗争にまきこまれ何度も焼失したが、1633 年に徳川家康の援助により本堂など多くの建物が再建された。
- ③ 本堂は「懸造り」と呼ばれる伝統工法によって、急峻な崖に建築されている。
- ④ 開創以来、奈良仏教の法相宗を宗旨としていたが、1965 年に臨濟宗に改宗した。

画像は  
著作権法により  
掲載できません

問 3 「東福寺」に関連する①～④の記述の中で正しいものを一つ選びなさい。(2点)

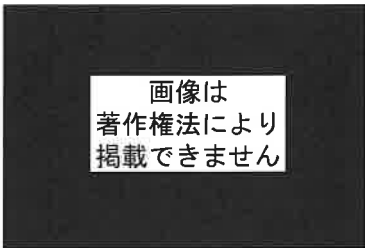
- ① 1236 年に後鳥羽上皇の発願によって創立された。
- ② 奈良の「東大寺」と「興福寺」から一字ずつとって、寺名としている。
- ③ 天台宗東福寺派の本山で、京都五山の一つである。
- ④ 境内にある通天橋は、本堂から通じる屋根付きの橋となっており、この付近は京都有数の桜の名所として知られている。



26

問 4 「高台寺」に関連する①～④の記述の中で正しいものを一つ選びなさい。(3点)

- ① 豊臣秀吉の側室である淀君が、秀吉の冥福を祈るために建立した。
- ② 壺屋の堂内装飾には、蒔絵(「高台寺蒔絵」)が施されている。
- ③ 嵐山を借景とした庭は、小堀遠州作の池泉回遊式庭園として知られている。
- ④ 江戸時代末には、一時、新撰組の屯所となっていた。



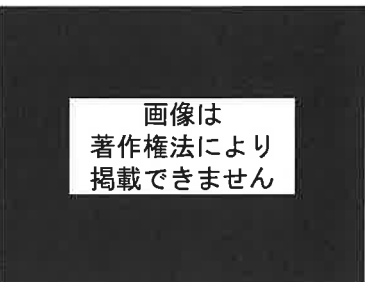
27

問 5 大原にある平清盛の娘、徳子(建礼門院)が平家滅亡後に余生を送った寺院はどこか、次の①～④から一つ選びなさい。(2点)

- ① 三千院                      ② 寂光院                      ③ 勝林院                      ④ 宝泉院

28

(12) 姫路城は、南北朝時代に赤松氏によって築かれたのがその始まりとされているが、1580 年代初頭、ここを中国地方の a 毛利氏攻略のための拠点とした羽柴(豊臣)秀吉によって三層の天守閣が築かれた。さらに、b 大坂の陣の後に城主となった池田輝政によって、今日見られる大規模な城郭に拡張された。池田氏の転封後、姫路は西国の押えとしての重要性から、幼主などが嫌われたこともあり、徳川家一門の松平氏のほか、有力 c 譜代大名である本多氏、榊原氏、酒井氏による頻繁な城主交代が行われた。



問 1 上記の説明の中で、下線部 a ~ c について正しいものをすべて選んだ組み合わせを次の①～④から一つ選びなさい。(3点)

- ① a と b                      ② a と c                      ③ b と c                      ④ a と b と c

29



問 2 1935 年～1939 年に新聞に連載された吉川英治の長編時代小説では、池田輝政が城主であったとき、ある剣客が姫路城天守閣に 3 年間幽閉され精神修養をしたとなっている。この小説のタイトルは何か、次の①～④から一つ選びなさい。(2 点)

- ① 『鞍馬天狗』            ② 『坂の上の雲』            ③ 『宮本武蔵』            ④ 『樅ノ木は残った』

(13) 下の「熊野古道」についての記述に関し、以下の問いに答えなさい。

熊野古道とは、熊野三山（熊野本宮大社、熊野速玉大社、熊野  大社）へと通じる参詣道の総称であり、修験者にとっては山岳修行の道となっていた。平安後期の院政時代から鎌倉時代にかけて、歴代の法皇・上皇らの熊野御幸は、百余度に及んだと言われており、御幸に供奉した  b  藤原定家は『明月記』の中で「感涙禁じ難し」と記している。この当時、参詣道の中で公式参詣道となっていたのは、田辺から熊野三山へと通じる中辺路であった。南北朝から室町時代にかけては武士や庶民の間に熊野信仰が広がったことにより、大勢の人が競って参詣するようになり、「蟻の熊野詣」の諺をうむほどになった。



問 1  に入る名称と、その地図上の位置を正しく組み合わせたものを、次の①～④から選びなさい。(3 点)

- ① 高野-ア            ② 勝浦-イ            ③ 新宮-ウ            ④ 那智-エ

問 2  下線部 b  の藤原定家が撰者の一人となった和歌集を、次の①～④から一つ選びなさい。(2 点)

- ① 万葉集            ② 古今和歌集            ③ 新古今和歌集            ④ 新続古今和歌集

(14) 島根県の観光地に関する、以下の問いに答えなさい。

問 1 島根県の観光地に関する①～④の記述の中で正しいものを一つ選びなさい。(3 点)

- ① 江戸時代に「たたら鉄」の製造・流通の取り扱いで繁栄した安来の名物「どじょうすくい」は、安来湊の遊女であった「出雲阿国」によって全国に広められた。  
 ② 出雲大社の創建について『古事記』では、天照大神に「国譲り」を行った大国主神（多くの別名がある）の功績を称えて造られた宮殿による、とある。  
 ③ 室町時代に活躍した水墨画家、雪舟の終焉の地、益田にある萬福寺には、彼が作った庭園と涙で描いたと伝えられる鼠の絵が残されている。  
 ④ 天守が国宝に指定されている松江城は、江戸時代有数の茶人としても知られている松平治郷（号は「不昧」）によって築かれた。

問 2 津和野出身の森鷗外に関する①～④の記述の中で正しいものを一つ選びなさい。(3 点)

- ① 生家の森家は、津和野藩代々の家老職の家柄であった。
- ② 藩校「養老館」には行かず、萩の松下村塾で吉田松陰に学んだ。
- ③ 1884～1888 年、陸軍の軍医としてドイツに留学した。
- ④ 帰国後、『ハムレット』を翻訳、小説『たけくらべ』で文壇に登場した。

34

(15) 岡山市の後楽園と岡山城に関連する以下の問いに答えなさい。

問 1 後楽園に関する①～④の記述の中で正しいものを一つ選びなさい。(3 点)

- ① 後楽園の築庭開始は、水戸偕楽園や金沢兼六園より新しい。
- ② 築庭は、岡山城を築いた宇喜多秀家に始まり、小早川秀秋に引き継がれ、池田光政によって完成された。
- ③ 園内には演舞場が設けられ、神楽、歌舞伎が演じられた。
- ④ 大名庭園であるが、江戸時代においても許可された領民は入園することができた。

画像は  
著作権法により  
掲載できません

35

問 2 岡山城主であった、宇喜多秀家に関する①～④の記述の中で正しいものを一つ選びなさい。(2 点)

- ① 豊臣政権下では「五奉行」の一人であった。
- ② 領内に、現存する世界最古の庶民の公立学校、「閑谷学校」を創建した。
- ③ 「関ヶ原の戦い」では西軍の副大将となったが、大坂城に留まっていたため、戦闘には加わっていない。
- ④ 「関ヶ原の戦い」後、八丈島に流されて当地で没した。

画像は  
著作権法により  
掲載できません

36

(16) 香川県の観光地に関連する①～④の記述の中で正しいものを一つ選びなさい。(2 点)

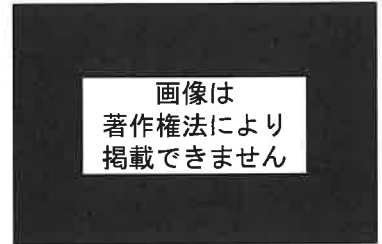
- ① 琴平町の「金丸座」は、1835 年に建てられた日本最古の狂言専門の常設小屋である。
- ② 『二十四の瞳』は、壺井栄が自身の出身地である小豆島を舞台にした小説で、1954 年に映画化された。
- ③ 1185 年に行われた「屋島の戦い」では、源頼朝が総大将の源氏が勝利し、この戦いによって平家が滅亡した。
- ④ 1745 年に完成した栗林公園は、明治時代の『高等小学読本』に、「木石ノ雅趣」は兼六園、偕楽園、後楽園の三公園に優っていると謳われるほどの栗の木を主体にした蜂須賀家の大名庭園である。

37

(17) 伊万里焼に関連する①～④の記述の中で正しいものを一つ選びなさい。

(2 点)

- ① 「伊万里焼」とは、朝鮮出兵の際に鍋島直茂が連れ帰った陶工、李参平を祖とする磁器の名称で、「有田焼」とは全く異なるものである。
- ② 1640 年代に色絵の技法が伝えられ、伊万里焼の技術革新が行われた。上絵付の技法で赤絵を完成させた酒井田柿右衛門（初代）は、その代表的存在である。
- ③ 伊万里焼は、江戸時代初期には海外にも輸出されていたが、1639 年に出された鎖国令によって国内での流通のみとなった。
- ④ 佐賀鍋島藩は、朝廷や將軍家への献上品（鍋島焼）生産のため、藩直営の御用窯を作り、さらには、その技法が盗まれないよう、それまでの大川内山から長崎沖の端島に御用窯を移した。




38

(18) 熊本城に関連する①～④の記述の中で正しいものを一つ選びなさい。

(2 点)

- ① 加藤清正によって新城が築かれ、城の完成とともに、それまでの「隈本」が「熊本」に改められたといわれる。
- ② 加藤家改易後、熊本城主となった細川忠利は、佐々木小次郎を客人として招いた。
- ③ 西南戦争では、田原坂より撤退した西郷隆盛軍が熊本城に籠城した。
- ④ 熊本城天守閣は 1933 年に国宝に指定されたが、文化財保護法改正に伴い、1950 年に重要文化財に改称された。



39

(19) 1975 年フランスがアメリカ、イギリス、ドイツ、イタリア、日本の 6 カ国の首脳を招集して始まった「先進国首脳会議」は、会議の名称を変えながら出席国を 20 カ国まで増やし、今年 6 月には 2019 年 G20 サミット首脳会議が大阪にて開催された。日本での開催は、今年の大阪を含めて 7 回目の開催となったが次の A～D の開催地を開催順に正しく並べたものを、次の①～④から一つ選びなさい。

(2 点)

- |                |                     |
|----------------|---------------------|
| A. 東京サミット      | 東京迎賓館 (3 回連続)       |
| B. 北海道・洞爺湖サミット | ザ・ウィンザーホテル洞爺リゾート&スパ |
| C. 伊勢志摩サミット    | 志摩観光ホテル             |
| D. 九州・沖縄サミット   | 万国津梁館               |

- ① A→B→C→D      ② A→B→D→C      ③ A→D→B→C      ④ A→D→C→B

40

〈日本歴史〉 マークシート 解答

問題番号	解答	配点
1	4	3
2	4	3
3	2	3
4	1	2
5	2	3
6	4	2
7	4	3
8	1	2
9	2	2
10	2	3
11	4	3
12	3	2
13	4	3
14	2	2
15	3	2
16	1	3
17	3	2
18	4	2
19	4	2
20	2	3

50

問題番号	解答	配点
21	4	3
22	2	3
23	3	3
24	3	2
25	3	3
26	2	2
27	2	3
28	2	2
29	2	3
30	3	2
31	4	3
32	3	2
33	2	3
34	3	3
35	4	3
36	4	2
37	2	2
38	2	2
39	1	2
40	3	2

50