

各問題に対する解答は配付したマークシートの解答欄にマークすること。例えば と表示のある問題に対して④と解答する場合は、解答番号 の解答欄の④にマークすること。

1

多くの訪日外国人観光客が訪れる北海道の は、スキーやスノーボードなどのウィンタースポーツに加え、夏に楽しめるアクティビティーとしてラフティングツアーなどで一年中観光が楽しめる場所として整備されている。

問 1 空欄 は、「通年型アウトドア体験観光のカリスマ」として知られるオーストラリア人のロス・フィンドレー氏が北海道 の魅力を国外に発信したことからインバウンド誘致に成功した要因となった。

空欄 に入る地名で正しいものはどれか、次の①～④から一つ選びなさい。 (2点)

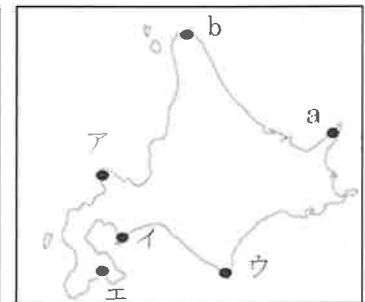
- ① ルスツ ② ニセコ ③ テイネ ④ トナム

2

広大な北海道は、四方が海に囲まれているため、数多くの風光明媚な半島や岬がある。

- ・地球が丸く見える事で有名な c 地球岬
- ・積丹半島の西北端にあり奇岩・怪石の断崖が続く d 神威岬
- ・日高山脈の南端が太平洋に突き出た夕日の名所の e 襟裳岬
- ・函館山の南端から突き出た岬で与謝野鉄幹・晶子の詠んだ歌碑のある f 立待岬

などの岬をめぐるツアーも多く催行されている。



問 1 地図上の a に位置する地区は、2005 年に世界自然遺産に登録されたところである。正しいものはどれか、次の①～④から一つ選びなさい。 (3点)

- ① 網走 ② 釧路 ③ 知床 ④ 根室

問 2 地図上の b に位置する岬には、「日本最北端の地」を標す記念碑がある。正しいものはどれか、次の①～④から一つ選びなさい。 (2点)

- ① 黄金岬 ② 能取岬 ③ 納沙布岬 ④ 宗谷岬

問 3. 下線部 c ~ f の岬は、地図中のア～エのいずれかに位置する。岬の名前とその正しい位置の組合せはどれか、次の①～④から一つ選びなさい。 (3点)

- | | | | |
|---------|-------|-------|-------|
| ① アー襟裳岬 | イー神威岬 | ウー地球岬 | エー立待岬 |
| ② アー地球岬 | イー襟裳岬 | ウー神威岬 | エー立待岬 |
| ③ アー神威岬 | イー襟裳岬 | ウー地球岬 | エー立待岬 |
| ④ アー神威岬 | イー地球岬 | ウー襟裳岬 | エー立待岬 |

3

2011 年の 3 月に発生した東日本大震災により、日本全国で祭りやイベントなどの自粛ムードが高まったが、その中で、東北の復興と鎮魂を願うために、「東北六魂祭」として 2011 年 7 月に宮城県 a 仙台市で 1 回目が開催された。

以後、b 盛岡市、c 福島市、d 山形市、e 秋田市の各県庁所在地で開催され、2016 年の f 青森市での開催をもって一巡した。東北六魂祭の後継イベントである「東北絆まつり」は、2017 年に 1 回目を仙台市で行い、これ以降は東北六魂祭と同様、各県庁所在地を巡回することとなった。

画像は
著作権法により
掲載できません

問 1 下線部 a から f に関連して、各都市の祭りの組合せで正しいものはどれか、次の①～④から一つ選びなさい。(3 点)

市名	a 仙台市	b 盛岡市	c 福島市	d 山形市	e 秋田市	f 青森市
祭り名	(ア)	さんさ踊り	わらじまつり	(イ)	(ウ)	(エ)

- (ア) (イ) (ウ) (エ)
- ① 七夕まつり・・・竿燈まつり・・・花笠まつり・・・ねぶた祭
 ② 七夕まつり・・・ねぶた祭・・・竿燈まつり・・・花笠まつり
 ③ 七夕まつり・・・竿燈まつり・・・ねぶた祭・・・花笠まつり
 ④ 七夕まつり・・・花笠まつり・・・竿燈まつり・・・ねぶた祭

問 2 下線部 b の市が所在する県にある世界文化遺産で正しいものはどれか、次の①～④から一つ選びなさい。(2 点)

- ① 瑞巖寺 ② 輪王寺 ③ 毛越寺 ④ 立石寺

問 3 下線部 c の県に所在する宿場町で、茅葺き屋根の土産物屋、ねぎ 1 本で食べる「ねぎそば」等が名物となっている宿場町で正しいものはどれか、次の①～④から選びなさい。(3 点)

- ① 馬籠宿 ② 大内宿 ③ 妻籠宿 ④ 奈良井宿

4

ウォーキングが好きな外国人旅行者に人気が高いコースの一つが、青森県にある奥入瀬溪流である。

奥入瀬溪流は、十和田湖から唯一流れ出ている奥入瀬川の上流である。湖畔の子ノ口から焼山までの約 14 キロメートルが国の天然記念物と特別名勝に指定され、せせらぎの音を聞きながら歩く森に囲まれたコースは、新緑の季節から紅葉の秋にかけて多くの観光客で賑わっている。

画像は
著作権法により
掲載できません

問 1 十和田湖畔の休屋地区は、遊覧船やバスの発着地でもあり、湖畔には高村光太郎の作品 のブロンズ像がある。

空欄 に入る語句で正しいものはどれか、次の①～④から一つ選びなさい。(2点)

- ① 乙女の像 ② たつこ姫の像 ③ 高村智恵子の像 ④ 松尾芭蕉の像

5

インバウンド観光において、「ゴールデンルート」とは、箱根や富士山、京都などをめぐって、東京～大阪を周遊するルートで、外国人観光客の定番コースとなっている。

それに対して、「ダイヤモンドルート」とは、福島県から a 東京都 や栃木県、b 茨城県 の 4 都県を結ぶ広域観光ルートのことである。

日本ではなじみのない言葉だが、実は外国人の間では高い人気を誇り、日光東照宮を擁する栃木県や、鹿島神宮などがある茨城県を経て、会津まつりや相馬野馬追などで知られる福島県まで足を運んでもらうことを目指すルートである。

また、「ダイヤモンドルート」の名前の由来は、4 都県の名所を結びあわせた時にダイヤモンドのような形になることから命名された。

画像は
著作権法により
掲載できません

問 1 下線部 a に関連して、東京都内で外国人観光客が多く訪れる地域と玄関口となる JR 駅との組み合わせで正しいものはどれか、次の①～④から一つ選びなさい。(2点)

- ① アメヤ横丁 — 金町駅 ② 表参道 — 御徒町駅
③ 柴又 — 原宿駅 ④ 谷中 — 日暮里駅

問 2 下線部 b に関連して、日本三名瀑の一つといわれ、滝の流れが大岩壁を四段に落下することから「四度の滝」と呼ばれている滝で正しいものはどれか、次の①～④から一つ選びなさい。(3点)

- ① 那智の滝 ② 袋田の滝 ③ 華厳の滝 ④ 吹割の滝

6

群馬県の山奥にある一軒宿、 は、旅行ガイドブックとしてシェア世界一を誇る「ロンリープラネット」が選ぶ「日本の温泉トップ10」で1位、ロイター配信「世界の10大温泉」6位に選ばれ、世界中から観光客が訪れている。

画像は
著作権法により
掲載できません

問1 群馬県内にある世界文化遺産の構成資産の一つで、1872年に明治政府がフランスからの技術を導入し、日本の養蚕・製糸業を主導した製糸工場で正しいものはどれか、次の①～④から一つ選びなさい。

(2点)

- ① 伊勢崎製糸場 ② 下仁田製糸場 ③ 藤岡製糸場 ④ 富岡製糸場

問2 空欄 は、溪流沿いに4つの巨大露天風呂を有し、その大きさはすべて合わせると約470畳という驚愕のスケールを誇り、「天下一の大混浴露天風呂」として知られている。空欄 に入る温泉で正しいものはどれか、次の①～④から一つ選びなさい。

(3点)

- ① 伊香保温泉 ② 宝川温泉 ③ 老神温泉 ④ 万座温泉

7

神奈川県南東部に位置する鎌倉は、日本で初めて武士が政権を獲った鎌倉幕府が誕生した地として知られている。

JR 鎌倉駅東口から まで伸びる若宮大路の西側をほぼ平行に走る は、ショッピングや食歩きで人気の鎌倉のメインストリートとなっている。その他にも鎌倉には多くの神社仏閣が存在する。例えば、鎌倉の海沿いを一望できる展望台のある長谷寺、鎌倉大仏の鎮座する、金運アップに効果があると言われている銭洗弁財天宇賀福神社、円覚寺や建長寺などの歴史的価値のある寺、6月はあじさいが美しい成就院など、神社仏閣巡りを楽しむことができる。

エリア内の移動は、徒歩もしくはバスか電車などがあり、電車は鎌倉から藤沢までの海沿いを運行する がある。

画像は
著作権法により
掲載できません

問1 空欄 に入る語句で正しいものはどれか、次の①～④から一つ選びなさい。

(3点)

- ① 北野天満宮 ② 太宰府天満宮 ③ 鶴岡八幡宮 ④ 防府天満宮

問2 空欄 に入る語句で正しいものはどれか、次の①～④から一つ選びなさい。

(2点)

- ① 国際通り ② 小町通り ③ 竹下通り ④ 堺町通り

問 3 空欄 に入る語句で正しいものはどれか、次の①～④から一つ選びなさい。 (2点)

- ① 高德院 ② 三千院 ③ 寂光院 ④ 平等院

問 4 空欄 に入る語句で正しいものはどれか、次の①～④から一つ選びなさい。 (2点)

- ① 伊豆箱根鉄道 ② 江ノ島電鉄 ③ 小田急電鉄 ④ 京浜急行電鉄

8

長野県の上高地は、日本有数の山岳景観地として名高い。a 上高地の中でもシンボリック的存在ともいえる b 河童橋は、上高地バスターミナルから徒歩数分の場所にある。

5月の連休や夏季、紅葉の季節には多くの旅行客が訪れ、河童橋付近は「上高地銀座」とも呼ばれるほどの賑わいとなる。

画像は
著作権法により
掲載できません

問 1 下線部 a の上高地に所在する池／湖で正しいものはどれか、次の①～④から一つ選びなさい。 (3点)

- ① 金鱗湖 ② 大正池 ③ みくりが池 ④ 田沢湖

問 2 下線部 b に関して、橋と観光地の組み合わせで同一都道府県に所在するもので正しいものはどれか、次の①～④から一つ選びなさい。 (2点)

- ① かずら橋 — 土柱 ② 錦帯橋 — 大浦天主堂
③ 猿橋 — 秋芳洞 ④ 眼鏡橋 — 御岳昇仙峡

9

福井県は、越前加賀海岸国定公園と若狭湾国定公園を有している。三国町の海岸線約 1 km にわたり続く は、国の天然記念物と名勝の指定を受けている。

は、1244 年中国で仏道の神髄を体得した道元禅師によって、出家参禅の道場として開創された。樹齢 680 年といわれる老杉に囲まれた敷地には、「七堂伽藍」を始め 70 棟余りの殿堂楼閣が点在している。

関西の奥座敷と呼ばれる には、74 本もの源泉があり、宿ごとに異なる泉質や効能を楽しめ、屋台が軒を連ねる「湯けむり横丁」がある。

画像は
著作権法により
掲載できません

問 1 地名が平泉寺の僧の名前に由来する は、観光遊覧船で大池、ライオン岩、軍艦岩などを眺めることができる。 に入る語句で正しいものはどれか、次の①～④から一つ選びなさい。(2点)

- ① 巖門 ② 蘇洞門 ③ 東尋坊 ④ 吉崎御坊

問 2 は曹洞宗の大本山で、修行僧が早朝より座禅などの厳しい修行に励んでいる。
 に入る語句で正しいものはどれか、次の①～④から一つ選びなさい。(3点)

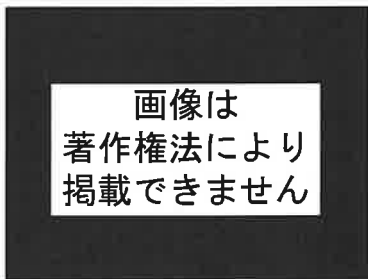
- ① 永平寺 ② 大師山清大寺(越前大仏) ③ 那谷寺 ④ 明通寺

問 3 は、福井県内随一の温泉地である。 に入る語句で正しいものはどれか、次の①～④から一つ選びなさい。(2点)

- ① 芦原温泉 ② 片山津温泉 ③ 山代温泉 ④ 山中温泉

10

六甲山の北側、海拔 400m に位置し、日本三古泉の一つである は、赤褐色の「金泉」と無色透明の「銀泉」という泉質の異なる湯が湧き出していることで知られている。
神戸港の開港後、外国人たちが海の見える高台に西洋式の邸宅を建て住んでいたことで異人館街と呼ばれるようになった は、神戸を代表する観光地の一つである。
関ヶ原の戦いで手柄を立てた池田輝政が 1600 年、初代姫路藩主として入城した姫路城は 1993 年には世界文化遺産に登録されており、白漆喰塗りの優美な姿から とも呼ばれている。



問 1 は、格式の高い旅館が立ち並ぶ一方、日帰り入浴が楽しめる公共の外湯「金の湯」「銀の湯」がある。 に入る語句で正しいものはどれか、次の①～④から一つ選びなさい。(3点)

- ① 赤穂御崎温泉 ② 有馬温泉 ③ 塩田温泉 ④ 宝塚温泉

問 2 国指定重要文化財の「風見鶏の館」や、国登録有形文化財の「うろこの家」などの異人館がある に入る語句で正しいものはどれか、次の①～④から一つ選びなさい。(3点)

- ① 北野 ② 三宮 ③ 灘 ④ 元町

問 3 姫路城は、大天守や小天守など 8 棟が国宝、門や渡り櫓など 74 棟が国指定重要文化財となっている。姫路城の別名として に入る語句で正しいものはどれか、次の①～④から一つ選びなさい。(2点)

- ① 白帝城 ② 白鳳城 ③ 白鷺城 ④ 芙蓉城

11

京都府は、日本海に面した北部エリアから、茶畑がのどかに広がる南部エリアまで、南北にのびている。重要伝統的建造物群保存地区に指定されている **a** の舟屋群は、海へせり出すように民家が立ち並び、海との暮らしを垣間見る独特の景観となっている。

京都市は、世界文化遺産の社寺・城を擁する国際文化観光都市である。山城地域は、茶畑が山腹から山頂へと広がっている。宇治茶の歴史と文化、美しい茶畑の景観を通じたストーリーが「日本茶800年の歴史散歩」として、日本遺産第1号に認定されている。

また宇治には、宇治川を挟んで **b** と宇治上神社の二つの世界文化遺産もある。

画像は
著作権法により
掲載できません

問1 一階が船の収納庫で二階が居室になっている **a** の舟屋は、湾に沿って水際ぎりぎりに約 230 軒が群として建ち並んでいる。 **a** に入る語句で正しいものはどれか、次の①～④から一つ選びなさい。(2点)

- ① 網野 ② 伊根 ③ 舞鶴 ④ 宮津

25

問2 **b** の鳳凰堂は 10 円硬貨にも描かれている。阿弥陀如来坐像が安置されている中堂と、左右の翼廊、背面の尾廊でなりたっており、大屋根には鳳凰が飾られている。**b** に入る社寺で正しいものはどれか、次の①～④から一つ選びなさい。(3点)

- ① 黄檗山萬福寺 ② 興聖寺 ③ 平等院 ④ 三室戸寺

26

12

高知県は、北に急峻な四国山地、南に雄大な太平洋を抱き、その間に流れる多くの清流がある。県西部を蛇行しながら流れる全長 196 km の大河 **a** は、その美しさから「日本最後の清流」と呼ばれている。

高知市の太平洋に面した景勝地 **b** は、夜は月の名所としても知られている。また、竜頭岬には坂本龍馬像が海を眺めるように立っている。

日本三大鍾乳洞の一つに数えられる **c** は、総延長は 4 km にも及び、弥生式土器が鍾乳石と一体化した「神の壺」は有名。

画像は
著作権法により
掲載できません

問1 **a** には、増水時に川に沈んでしまうように設計された欄干のない沈下橋がかかり、一斗俵沈下橋は国の登録有形文化財に指定されている。**a** に入る川の名前で正しいものはどれか、次の①～④から一つ選びなさい。(3点)

- ① 四万十川 ② 仁淀川 ③ 物部川 ④ 吉野川

27

問 2 の周辺は、公園として遊歩道も整備され、水族館や県立坂本龍馬記念館がある。
 に入る語句で正しいものはどれか、次の①～④から一つ選びなさい。 (3点)

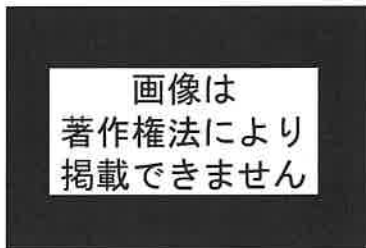
- ① 大浜海岸 ② 桂浜 ③ 五色浜 ④ 琴引浜

問 3 日本三大鍾乳洞の 1 つで高知県にある に入る語句で正しいものはどれか、次の①～④から一つ選びなさい。 (2点)

- ① 秋芳洞 ② 昇竜洞 ③ 龍河洞 ④ 龍泉洞

13

山口県は三方を海に開かれている。
 長門市の観光名所「龍宮の潮吹」側から連なる 123 基の赤い鳥居が印象的な は、アメリカの CNN が 2015 年に発表した「日本の最も美しい場所 31 選」に選ばれている。
 阿武川の下流が松本川と橋本川に分かれ、それぞれが日本海へと通じる三角州の上に発達した には、世界遺産に登録された松下村塾をはじめ、吉田松陰誕生地・墓所や初代総理大臣伊藤博文旧宅・別邸などがある。
 山口県内にある温泉は、肌表面の古い角質や余分な皮脂を取り除いてくれるクレンジング効果の高い美人湯が多い。山口県の中心部に位置する は、けがをした白狐が傷を癒すために浸かっていたという白狐伝説が残っており、肌によく馴染むやわらかい湯が特徴であることから「美肌の湯」とも呼ばれている。



問 1 の高台に立つ大鳥居の上部には、高さ約 5 m の位置に賽銭箱が設置されており、見事投げ入れることができれば、願い事が叶うと言われている。 に入る語句で正しいものはどれか、次の①～④から一つ選びなさい。 (2点)

- ① 赤間神宮 ② 太鼓谷稻成神社 ③ 元乃隅神社 ④ 瑠璃光寺

問 2 は、江戸時代とほとんど変わらない町割が残る城下町。ここの藩きっての豪商、菊屋家の住宅や、幕末の偉人たちゆかりのスポットなど見どころが多数ある。 に入る語句で正しいものはどれか、次の①～④から一つ選びなさい。 (3点)

- ① 仙崎 ② 長府 ③ 津和野 ④ 萩

問 3 SL「やまぐち号」も停車する の最寄り駅名にもここの温泉名がつけられている。 に入る語句で正しいものはどれか、次の①～④から一つ選びなさい。 (2点)

- ① 川棚温泉 ② 俵山温泉 ③ 長門湯本温泉 ④ 湯田温泉

14

昔から海外との交流で栄えてきた長崎市には、異国文化あふれる祭りや建造物がいまでも大切に守られている。

長崎の食文化は、山海の幸という豊富な食材と、海外から伝えられた食文化が融合しアレンジされ、a. 「和華蘭グルメ」と言われる長崎独自の味として進化を続けてきた。

問1 次の①～④の建造物のうち、長崎市内にあるもので正しいものはどれか、次の①～④から一つ選びなさい。(2点)

- ① 旧野首教会堂 ② グラバー園 ③ ハウステンボス ④ 松浦史料博物館

問2 下線部 a の、和(日本)・華(中国)・蘭(西洋)グルメである長崎の名物料理で正しいものはどれか、次の①～④から一つ選びなさい。

(3点)

- ① おばんざい
② 皿鉢料理
③ 卓袱料理
④ 太平燕

画像は
著作権法により
掲載できません

15

宮城県北部に位置し、阿蘇山の溶岩が浸食されてできた は、ボートから望む柱状節理の断崖と垂直な崖から流れ落ちる真名井の滝が神秘的である。

霧島連山の最高峰・韓国岳の麓にある は、標高 1200m の高原リゾートで登山やトレッキングが楽しめる。

県南部の伊東藩五万一千石の城下町 は、石垣や武家屋敷等が残る情緒的な町並みが「九州の小京都」とも呼ばれている。

画像は
著作権法により
掲載できません

問1 の周囲には約 500m の遊歩道があり、春の新緑、秋の紅葉の時期は特に美しい景色を楽しめる。 に入る語句で正しいものはどれか、次の①～④から一つ選びなさい。(3点)

- ① 菊池溪谷 ② 帝釈峡 ③ 高千穂峡 ④ 耶馬溪

問2 は、日本で最初に指定された国立公園である「霧島錦江湾国立公園」内にあり、四季を通じて自然を体感できる。 に入る語句で正しいものはどれか、次の①～④から一つ選びなさい。(3点)

- ① えびの高原 ② 草千里ヶ浜 ③ 瀬の本高原 ④ 矢岳高原

問3 は日南市にあり、明治時代に外務大臣を務めた小村寿太郎の生誕の地で小村記念館がある。 に入る語句で正しいものはどれか、次の①～④から一つ選びなさい。(2点)

- ① 秋月 ② 飫肥 ③ 杵築 ④ 竹田

16

沖縄県はかつて「琉球王国」という独立した国家で、諸外国の影響を受け独自の文化を育んできた。世界遺産「琉球王国のグスク及び関連遺産群」の一つ は、沖縄開びゃくの神、アマミキヨによって造られたとされる七つの御嶽の一つ。現在も厚い信仰を集める沖縄第一の霊場である。

は、沖縄本島の恩納村に位置し、琉球石灰岩の断崖から望む東シナ海が海の色合いを変化させ、綺麗で雄大な景色が広がっており、像の鼻に似た岩が見える場所が絶景ポイント。

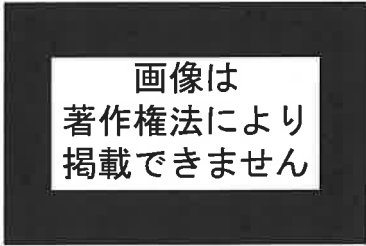
八重山諸島の は、沖縄本島に次ぎ2番目に広い島。島の90%以上はジャングルにおおわれ、海・山・川・滝など手つかずの自然が残っている。

問1 は南城市にあり、琉球王国における最高の御嶽と言われている。 に入る語句で正しいものはどれか、次の①～④から一つ選びなさい。(2点)

- ① 阿須森御嶽 ② 首里森御嶽 ③ 斎場御嶽 ④ 藪薩御嶽

問2 は、切り立ったサンゴ礁の芝生台地になっており、象の鼻に見える岩があることで有名である。 に入る語句で正しいものはどれか、次の①～④から一つ選びなさい。(3点)

- ① 残波岬 ② 辺戸岬 ③ 真栄田岬 ④ 万座毛



問3 には、マリユドゥの滝やカンビレーの滝があり、水牛車で海を渡り由布島へも行くことができる。 に入る語句で正しいものはどれか次の①～④から一つ選びなさい。(3点)

- ① 石垣島 ② 西表島 ③ 波照間島 ④ 与那国島

〈日本地理〉 マークシート 解答

問題番号	解答	配点
1	2	2
2	3	3
3	4	2
4	4	3
5	4	3
6	3	2
7	2	3
8	1	2
9	4	2
10	2	3
11	4	2
12	2	3
13	3	3
14	2	2
15	1	2
16	2	2
17	2	3
18	1	2
19	3	2
20	1	3

49

問題番号	解答	配点
21	1	2
22	2	3
23	1	3
24	3	2
25	2	2
26	3	3
27	1	3
28	2	3
29	3	2
30	3	2
31	4	3
32	4	2
33	2	2
34	3	3
35	3	3
36	1	3
37	2	2
38	3	2
39	4	3
40	2	3

51