

2023年度全国通訳案内士試験

試験問題

日本地理

本文6ページ

各問題に対する解答はマークシートの解答欄にマークすること。例えば と表示のある問題に対して④と解答する場合は、マークシート の解答欄の④にマークすること。

1.

宮城県仙台市は、17 世紀に伊達政宗によって開かれた城下町である。もともとは (a) の河岸段丘面の湿地帯であったところに、用水整備をともなう都市計画を敷くことで市街地が形成されていった。また、その用水によって屋敷林を設けることが可能となり、現在のように「杜の都」との愛称で呼ばれるまでになった。このように仙台における伊達政宗の功績は大きく、b 氏を祀る御廟が経ヶ峯に建立された。また、伊達政宗が美食家であったことから仙台も美食の街となったとされ、現在では「牛タン焼き」や「はらこめし」、「ずんだ餅」などの c 郷土食が名物となっている。さらに、郊外にはともに「仙台の奥座敷」と称される (a) 沿いの作並温泉と名取川沿いの (d) があり、東北最大の都市としての賑わいと一体となった観光圏を形成している。

問1 空欄 a に入る河川として正しいものはどれか、次の①～④から一つ選びなさい。 (3 点)

- ① 阿武隈川 ② 奥入瀬川 ③ 北上川 ④ 広瀬川

問2 下線部 b の伊達政宗を祀る御廟として正しいものはどれか、次の①～④から一つ選びなさい。 (3 点)

- ① 感仙殿 ② 瑞鳳殿 ③ 善応殿 ④ 大極殿

問3 下線部 c に関連して、伊達政宗が製造蔵を建造させたという仙台藩の保存食・調味料とは何か、次の①～④から一つ選びなさい。 (3 点)

- ① 砂糖 ② 塩 ③ 酢 ④ 味噌

問4 空欄 d に入る温泉として正しいものはどれか、次の①～④から一つ選びなさい。 (3 点)

- ① 秋保温泉 ② 小原温泉 ③ 遠刈田温泉 ④ 鳴子温泉

2.

富山県立山町は古くは江戸時代に立山信仰の巡礼地として、また 1970 年代以降は a 立山黒部アルペンルートの観光地として発展してきた。町域は東西に細長く、大部分は山岳地帯であるが、北西部の日本一の急流とされる (b) によって形成された扇状地上に現在の中心市街地がある。立山信仰の拠点 (b) 中流に展開する宗教集落である (c) にあり、この集落の人々は江戸時代から「中語 (ちゅうご)」と呼ばれる立山登拝の案内人を担うようになった。現在でもその子孫たちから山岳ガイドが輩出している。

問1 下線部 a について、ルートの西の入り口は富山県立山町であるが、東の入り口はどの自治体に該当するか、次の①～④から一つ選びなさい。 (4 点)

- ① 岐阜県高山市 ② 岐阜県飛騨市 ③ 長野県大町市 ④ 長野県松本市

問2 空欄 b に入る河川として正しいものはどれか、次の①～④から一つ選びなさい。 (3点)

- ① 黒部川 ② 庄川 ③ 常願寺川 ④ 神通川

問3 空欄 c に入る集落名として正しいものはどれか、次の①～④から一つ選びなさい。 (4点)

- ① 芦峯寺 ② 勝興寺 ③ 瑞泉寺 ④ 本證寺

3.
千葉県香取市は県北部、茨城県との県境に位置する自治体である。市域中部から南部にかけては (a) 台地が、一方北部は古 (b) などの河川による三角州地帯であったが、江戸時代の治水事業により現在では (b) の低地が広がる。その低地に開かれた中心市街地である (c) は、重要伝統的建造物群保存地区として小野川を挟んだ商家の街並みが有名である。また、市街には江戸時代に「大日本沿海輿地全図」を完成させた (d) の旧宅と記念館もあり、日本の地理測量技術の礎を感じることができる。

問1 空欄 a に入る名称として正しいものはどれか、次の①～④から一つ選びなさい。 (3点)

- ① 上総 ② 下総 ③ 常陸 ④ 武蔵野

問2 空欄 b に入る河川として正しいものはどれか、次の①～④から一つ選びなさい。 (3点)

- ① 江戸川 ② 隅田川 ③ 利根川 ④ 那珂川

問3 空欄 c に入る集落名として正しいものはどれか、次の①～④から一つ選びなさい。 (3点)

- ① 大多喜 ② 久留里 ③ 佐倉 ④ 佐原

問4 空欄 d に入る人物として正しいものはどれか、次の①～④から一つ選びなさい。 (3点)

- ① 伊能忠敬 ② 長久保赤水 ③ 松浦武四郎 ④ 間宮林蔵

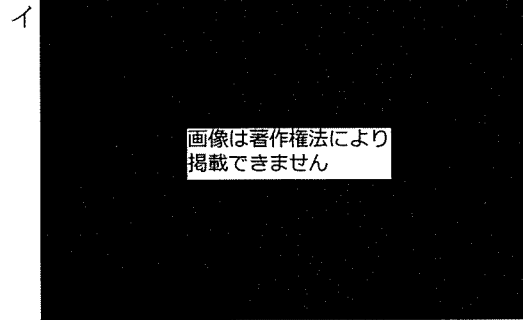
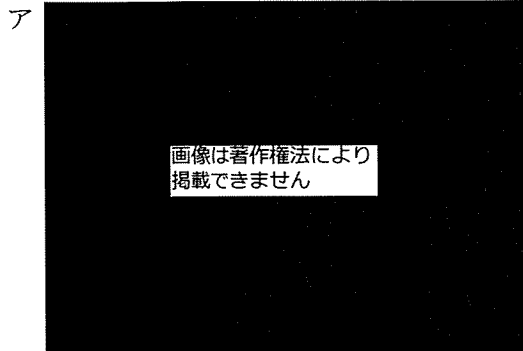
4.
長野県東御市は長野県東部に位置する。市域の中心部を (a) が東西に流れており、その西端には「うだつ」の町並みが残る (b) の宿場町で、重要伝統的建造物群保存地区に指定された c 海野宿がある。また、市域北部は浅間連峰の山麓であり、水はけのよい火山性の土壌と扇状地の緩やかな南斜面を活用してリンゴやブドウなどの果樹栽培が盛んに行われている。それらの果樹を使用した d シードルやワインなどの醸造も地域の重要産業の一つであり、地域に分布する醸造所を巡る観光が人気である。

問1 空欄 a に入る河川として正しいものはどれか、次の①～④から一つ選びなさい。 (3点)

- ① 木曾川 ② 犀川 ③ 千曲川 ④ 天竜川

問2 空欄 b に入る街道名と下線部 c の景観写真の組み合わせとして正しいものはどれか、次の①～④から一つ選びなさい。(5点)

<下線部 c の景観写真>



- ① 中山道—ア ② 中山道—イ ③ 北国街道—ア ④ 北国街道—イ 13

問3 下線部 d に関連して、2008年に東御市が長野県で初めて認定されたものはどれか、次の①～④から一つ選びなさい。(4点)

- ① 酒蔵ツーリズム推進事業 ② どぶろく特区
③ ワイン特区 ④ ワインの地理的表示 (GI) 認証 14

5. 歴史ある京都は季節ごとに数々の風物詩で彩られる。初夏から秋にかけては、川辺にせり出した座敷で会席料理を楽しむ納涼床が並ぶ。納涼床は鴨川沿いと (a) の周囲の溪谷が有名である。また、8月16日には夏を代表する風物詩として知られる、五山の送り火が行われ、特に大の文字が灯される (b) は「大文字山」として知られる。10月に開催される平安神宮の大祭の (c) では、京都を舞台に活躍した人物に扮した人々が馬や牛車にも乗って巡行する。紅葉の時期には寺院をはじめ様々な場所でライトアップが見られ、中でも教王護国寺とも称される (d) では紅葉が池に映る姿が美しい。

問1 空欄 a に入る用語として最も適切なものはどれか、次の①～④から一つ選びなさい。(3点)

- ① 石清水八幡宮 ② 貴船神社 ③ 観月橋 ④ 保津峡駅 15

問2 空欄 b に入る用語として正しいものはどれか、次の①～④から一つ選びなさい。(3点)

- ① 鞍馬山 ② 天王山 ③ 如意ヶ嶽 ④ 比叡山 16

問3 空欄 c に入る用語として正しいものはどれか、次の①～④から一つ選びなさい。(3点)

- ① 葵祭 ② 時代祭 ③ ずいき祭 ④ 豊太閤花見行列 17

問4 空欄 d に入る用語として正しいものはどれか、次の①～④から一つ選びなさい。(4点)

- ① 金閣寺 ② 東寺 ③ 仁和寺 ④ 比叡山 18

6.

穏やかな海と島々に魅了される瀬戸内海を、大阪から船で航海してみよう。淡路島を過ぎて見えてくる小豆島は、(a) をはじめとする溪谷美と、オリーブやそうめんなどの特産品で知られる。小豆島の西方に位置する (b) は、島の北側にある金属精錬所の煙害に悩まされてきたが、島の南部に教育関連企業の財団により美術館が多数設けられ、インバウンド客も多く訪れる。瀬戸大橋をくぐって南側に見えてくるのが象頭山で、その中腹には船乗りの信仰の対象として著名な c 金刀比羅宮 がある。備讃瀬戸を過ぎると、福山市の南岸に (d) があり、ここはかつて潮待ちの港として栄え、古い町並みや江戸時代末期に建てられた常夜燈が今でも残る。また、海上に浮かぶ朱色の鳥居で知られる e 厳島神社 では、この地域の有力な武家一門から奉納された美術工芸品が国宝に指定されている。

問1 空欄 a に入る用語として正しいものはどれか、次の①～④から一つ選びなさい。(4点)

- ① 祖谷溪 ② 面河溪 ③ 寒霞溪 ④ 三段峡

問2 空欄 b に入る用語として正しいものはどれか、次の①～④から一つ選びなさい。(3点)

- ① 家島 ② 生口島 ③ 仙酔島 ④ 直島

問3 下線部 c に関して、その門前町に位置する芝居小屋はどれか、次の①～④から一つ選びなさい。

(4点)

- ① 内子座 ② 金丸座 ③ 嘉穂劇場 ④ 八千代座

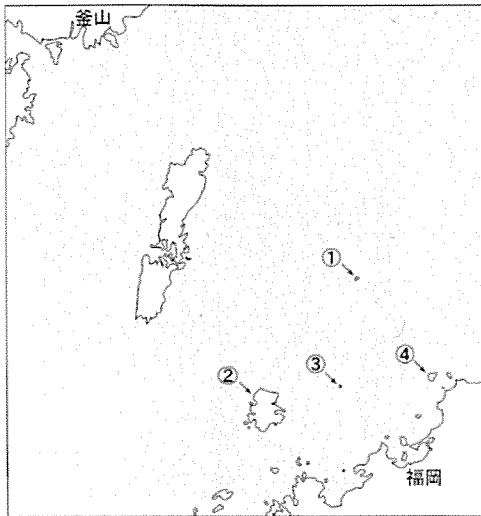
問4 空欄 d に入る用語として正しいものはどれか、次の①～④から一つ選びなさい。(3点)

- ① 尾道 ② 倉敷 ③ 鞆の浦 ④ 新居浜

問5 下線部 e に関して、奉納された経典が国宝に指定されているが、これを奉納した武家一門はどれか、次の①～④から一つ選びなさい。(3点)

- ① 浅野家 ② 足利家 ③ 平家 ④ 毛利家

7.
九州北部は中国大陸や朝鮮半島との繋がりが色濃い。a 沖ノ島は 4 世紀後半から 9 世紀末まで九州北部と朝鮮半島を往来する船が航海安全を祈願したところで、大量の奉納品が出土したことから「海の正倉院」とも呼ばれる。16 世紀末の朝鮮出兵で朝鮮半島から連れてこられた陶工が日本で初めて白磁器の生産に成功し、後に b 伊万里焼としてヨーロッパに輸出されるようになった。明治期半ばから中国大陸や朝鮮半島との貿易や軍事進出の拠点となった (c) には、1890 年代から 1930 年代に建てられた税関や駅舎、業務ビルなどが船だまりの周囲に保存されており、その中には移築されてきた建築物もある。



問 1 下線部 a に関して、沖ノ島に該当する島はどれか、地図中の①～④から一つ選びなさい。 (4 点)

問 2 下線部 b に関して、伊万里焼の別称はどれか、次の①～④から一つ選びなさい。 (3 点)

① 有田焼 ② 小鹿田焼 ③ 唐津焼 ④ 砥部焼

問 3 空欄 c に入る用語として正しいものはどれか、次の①～④から一つ選びなさい。 (3 点)

① 下関港 ② 長崎港 ③ 博多港 ④ 門司港

8. 沖縄本島的那覇の西方 40km ほどに位置する慶良間諸島はケラマブルーと呼ばれる海でスキューバダイビングが盛んに行われるが、冬に繁殖にやってくる (a) の観察も観光客に人気があり、ダイビング業者の貴重な閑散期対策となっている。宮古島は隆起サンゴ礁でできた平坦な地形で、東端には約 2km にわたって続く細長い岬である (b) があり、太平洋と東シナ海を一望にできる。八重山諸島の (c) はサンゴでできた石垣と白砂の道、赤瓦の民家の景観に特色があり、重要伝統的建造物群保存地区に指定されており、水牛車に揺られて集落を巡ることができる。西表島は山がちで平地が少なく、河川の河口付近には支柱根や呼吸根が特徴的な (d) が広がる。

問1 空欄 a に入る用語として正しいものはどれか、次の①～④から一つ選びなさい。 (3 点)

- ① アオウミガメ ② アサギマダラ ③ ザトウクジラ ④ ジュゴン 27

問2 空欄 b に入る用語として正しいものはどれか、次の①～④から一つ選びなさい。 (4 点)

- ① 御神崎 ② 喜屋武岬 ③ 東平安名崎 ④ 辺戸岬 28

問3 空欄 c に入る用語として正しいものはどれか、次の①～④から一つ選びなさい。 (3 点)

- ① 小浜島 ② 竹富島 ③ 渡名喜島 ④ 与那国島 29

問4 空欄 d に入る用語として正しいものはどれか、次の①～④から一つ選びなさい。 (3 点)

- ① カトレア群落 ② 照葉樹林 ③ ソテツ群落 ④ マングローブ林 30

<日本地理> マークシート 解答 (2023年度)

解答番号	解答	配点	問題番号
1	4	3	1
2	2	3	
3	4	3	
4	1	3	
5	3	4	2
6	3	3	
7	1	4	
8	2	3	3
9	3	3	
10	4	3	
11	1	3	
12	3	3	4
13	3	5	
14	3	4	
15	2	3	5
16	3	3	
17	2	3	
18	2	4	
19	3	4	6
20	4	3	
21	2	4	
22	3	3	
23	3	3	
24	1	4	7
25	1	3	
26	4	3	
27	3	3	8
28	3	4	
29	2	3	
30	4	3	